

EVALUATION BSR

Renseignements d'ordre général :


Nom : _____ Prénom : _____ Date de naissance : ____ / ____ / ____

Adresse : _____

Tel : _____ Niveau scolaire : _____ Nationalité : _____

1/ A cette intersection, je dois :

- A - ralentir vivement
- B - obligatoirement m'arrêter
- C - m'arrêter uniquement pour laisser passer un autre usager



2/ A cyclomoteur, il est interdit de circuler sur une voie signalée par ce panneau :

- A - oui, dans tous les cas
- B - non, si c'est le chemin le plus court
- C - non, dans tous les cas



3/ A cyclomoteur, je peux prendre cette voie :

- A - oui
- B - non



4/ Pour non port du casque, je risque une amende :

- A - oui
- B - non




5/ Ce panneau interdit le passage au :

- A - piéton
- B - scooter
- C - cyclomoteur




6/ La pression et l'état des pneumatiques du cyclomoteur doivent être vérifiés régulièrement :

- A - oui
- B - non




7/ A une vitesse de 40 Km/h. Quelle distance parcourt-on en une seconde ?

- A - 5 mètres
- B - 12 mètres
- C - 28 mètres




8/ Au guidon d'un deux roues avec ou sans moteur, vous pouvez être verbalisé si votre taux d'alcoolémie est de :

- A - 0,6 g / litre de sang
- B - 0,2 mg / litre d'air expiré
- C - 0,8 g / litre de sang



9/ Cette façon de se déplacer est :

- A - astucieuse et sans risque
- B - interdite
- C - autorisée



10/ Sur un cyclomoteur, le port du casque est obligatoire :

- A - uniquement pour le conducteur
- B - uniquement pour le passager
- C - pour le conducteur et le passager



11/ Ce conducteur doit effectuer un freinage d'urgence. La distance d'arrêt va varier en fonction :

- A - de l'état des pneumatiques
- B - du carré de la vitesse
- C - de la taille de l'obstacle



12 / Quels sont les éléments qui peuvent altérer les capacités d'analyse d'Adrien au guidon de son cyclomoteur ?

- A - les soucis
- B - l'expérience
- C - les médicaments

